

Nume

Data

Matematică

1. Efectuează calculele:

$200 + 15 =$

$272 - 142 =$

$142 + 17 =$

$875 - 663 =$

$96 + 14 =$

$75 - 26 =$

2. Marcel are 12 mere iar Mihai are 14. Cine are mai multe mere? Câte mere au cei doi copii în total?



3. Calculează:

$20 \times 5 =$

$74 \times 4 =$

$32 \times 8 =$

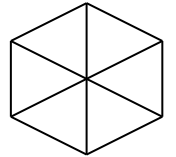

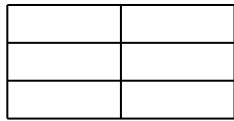
4. Compară fracțiile:

$$\frac{2}{5} \quad \frac{1}{5}$$

$$\frac{1}{10} \quad \frac{7}{10}$$

$$\frac{4}{4} \quad \frac{4}{4}$$

5. Colorează partea corespunzătoare din fracție:



$$\frac{1}{4}$$

$$\frac{4}{6}$$

$$\frac{6}{8}$$

$$\frac{8}{12}$$

$$\frac{2}{6}$$

6. Desenează un triunghi, un patrat si un dreptunghi

