



Probleme de înmulțire și împărțire cu 3, 4 și 8

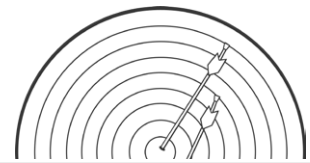
1. Câte roți au cele 9 triciclete?



2. 24 de oameni se vor deplasa la aeroport cu taxiuri. În fiecare taxi călătoresc 4 persoane. Câte taxiuri vor fi folosite?



3. Anita este o arcașă pasionată. Într-o zi a tras 5 săgeți. Fiecare săgeată marchează 8 puncte. Ce punctaj a obținut în acea zi?



4. Trei judecători au acordat un total de 27 de puncte. Fiecare a acordat același punctaj. Câte puncte a acordat fiecare?



5. Biletele de cinema costă £8? Șase persoane merg să vizioneze un film. Cât vor plăti în total pentru bilete?



6. Cutiile de limonadă se vând în pachete de câte 4. Claudiu are nevoie de 36 de cutii pentru petrecere. Câte pachete trebuie să cumpere?

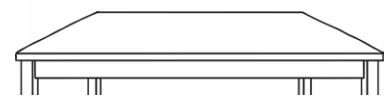


7. Traian, Karen și Laura împart în mod egal un pachet cu alune. În pachet sunt 21 de alune. Câte alune îi revin fiecareia?



8. O mașină care taie și ambalează bucăți de mango, pune câte 8 bucăți în fiecare pachet. Mașina taie 88 de bucăți pe minut. Câte pachete va umple la fiecare cinci minute?

9. Un tâmplar face mese, unele cu 3 picioare, altele cu 4. El se pregătește să facă 5 mese cu 3 picioare și 4 mese cu câte 4 picioare. De câte picioare va avea nevoie?



Probleme de înmulțire și împărțire cu 3, 4 și 8

Răspunsuri

Întrebare	Răspuns
1	27 roți
2	6 taxiuri
3	40
4	9 puncte
5	48 lei
6	9 pachete
7	7 alune pentru fiecare
8	11 pachete
9	31 picioare