

FISA DE LUCRU

Unități de măsură (clasa a II-a, aIII-a)

1. Completează:

Metrul este unitatea de măsură pentru _____.
_____ este unitatea de măsură pentru capacitate.
Pentru a măsura masa corpurilor folosim _____

2. Scie cu ce se măsoară:

- apa din pahar _____
- zahărul din pungă _____
- lungimea pauzei de masă _____
- lungimea sălii de clasă _____
- greutatea mingii de baschet _____
- costul unei bluze _____

3. Dacă Tudor este născut pe 15 iulie 2011, când va împlini:

- 7 zile? _____
- 4 luni ? _____
- 2 ani ? _____

4. Completează:

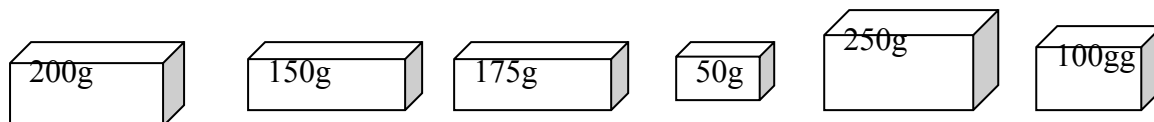
Un an are _____ luni. O lună are _____ zile sau _____ sau _____ sau _____ zile.
O săptămână are _____ zile. O zi are _____ ore. O oră are _____ minute.
Un minut are _____ secunde. O jumătate de oră are _____. Un
sfert de oră are _____. Zilele săptămânii sunt: _____,
_____, _____, _____, _____, _____, _____.
Astăzi este miercuri. Ieri a fost _____,
iar mâine va fi _____.

5. Ordonează crescător mărimile:

bidon	cisternă	cadă	găleată	sticlă	bazin de înot	pahar
-------	----------	------	---------	--------	---------------	-------

6. Adrian are 7 bancnote de 10 lei . De la mama mai primește 20 de lei. Câți lei îi rămân după ce cumpără o jachetă de 50 de lei ?

7. Ce pachete de unt vei alege pentru a cumpăra de la supermarket 500 grame?(Colorează)



8. Ce valoare totală au?

- 2 monede de 5 bani? _____
- 5 monede de 10 bani ? _____

9. Priviți cu atenție și faceți legătura între cuvintele care fac parte din același domeniu:



timpul

metrul



lungimea

litrul



capacitatea

kilogramul

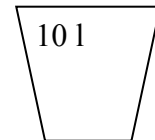
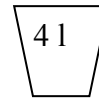
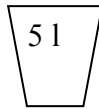
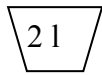
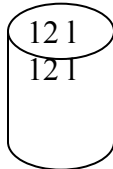


masa

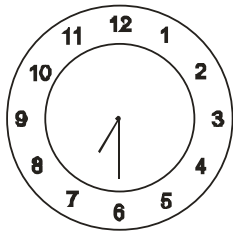
ora

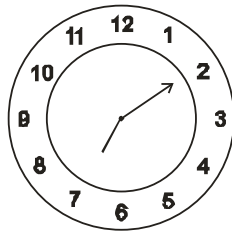
10. A


10. Alegeți vasele cu care puteți umple un vas de 12 l cu cât mai puține mutări (colorați):




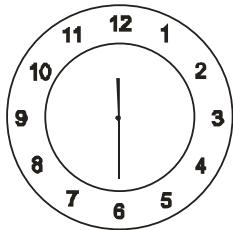
11. Scrieți sub cadranul fiecărui ceas ora indicată:












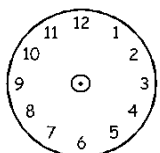




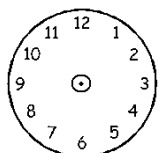




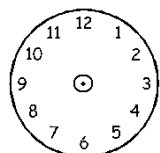
12. Desenați pe cadran acele ceasului pentru a indica ora afișată jos:



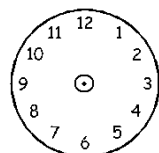
8:30



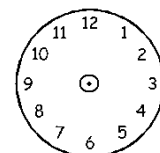
11:15



13:45



18:10



22:00