



Nume \_\_\_\_\_



Adunarea numerelor de 2 cifre cu trecere peste ordin

# Comoara unei cărți

Adună. Apoi colorează fiecare cutie cu o sumă impară pentru a ajuta băiatul să găsească drumul spre carte.

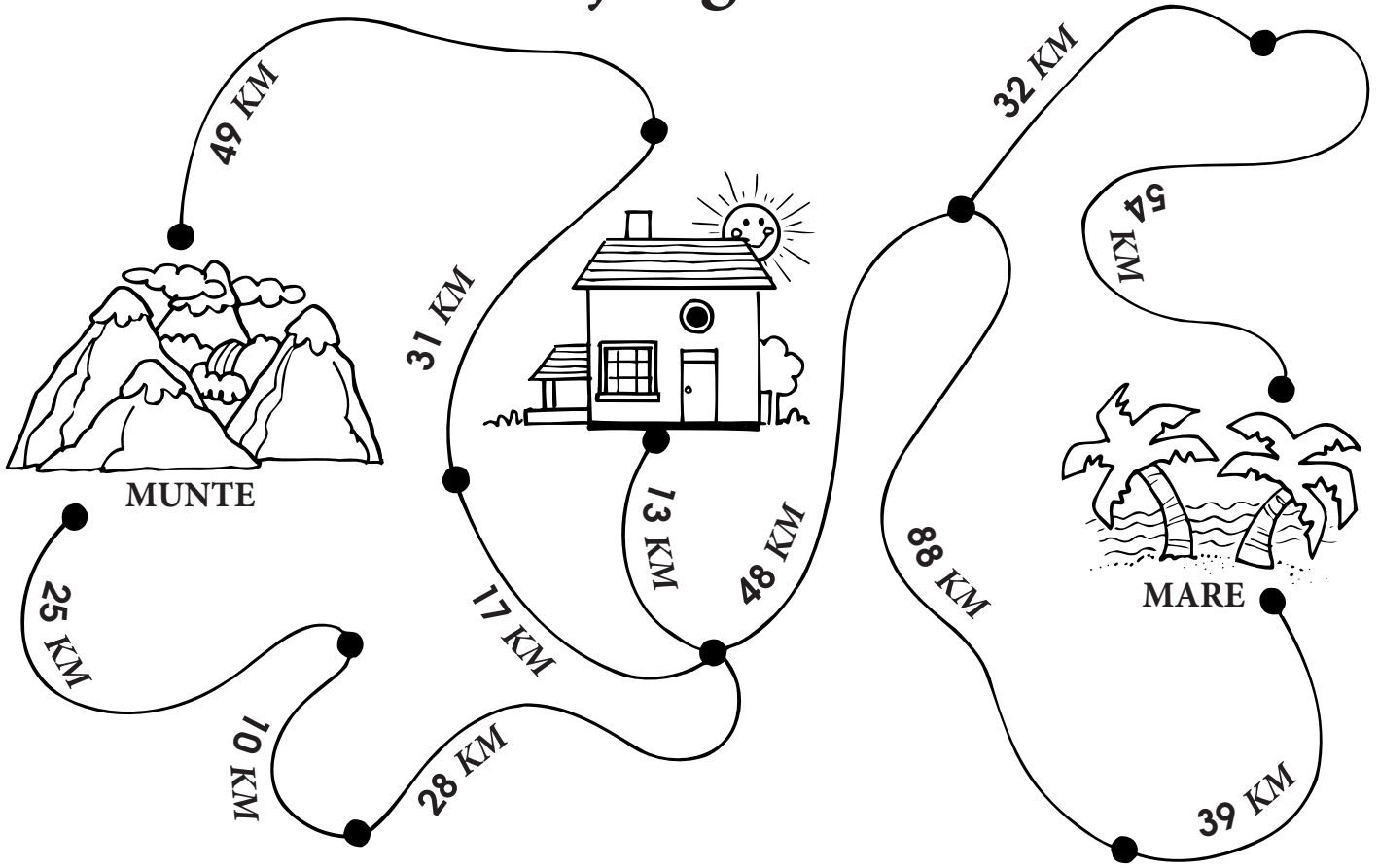








	$\begin{array}{r} 47+ \\ \underline{24} \end{array}$	$\begin{array}{r} 74+ \\ \underline{19} \end{array}$	$\begin{array}{r} 78+ \\ \underline{12} \end{array}$	$\begin{array}{r} 15+ \\ \underline{37} \end{array}$
$\begin{array}{r} 48+ \\ \underline{44} \end{array}$	$\begin{array}{r} 31+ \\ \underline{59} \end{array}$	$\begin{array}{r} 52+ \\ \underline{39} \end{array}$	$\begin{array}{r} 29+ \\ \underline{57} \end{array}$	$\begin{array}{r} 73+ \\ \underline{19} \end{array}$
$\begin{array}{r} 63+ \\ \underline{18} \end{array}$	$\begin{array}{r} 14+ \\ \underline{67} \end{array}$	$\begin{array}{r} 57+ \\ \underline{16} \end{array}$	$\begin{array}{r} 24+ \\ \underline{18} \end{array}$	$\begin{array}{r} 63+ \\ \underline{29} \end{array}$
$\begin{array}{r} 57+ \\ \underline{28} \end{array}$	$\begin{array}{r} 27+ \\ \underline{47} \end{array}$	$\begin{array}{r} 76+ \\ \underline{16} \end{array}$	$\begin{array}{r} 72+ \\ \underline{18} \end{array}$	$\begin{array}{r} 76+ \\ \underline{18} \end{array}$
$\begin{array}{r} 32+ \\ \underline{19} \end{array}$	$\begin{array}{r} 17+ \\ \underline{24} \end{array}$	$\begin{array}{r} 55+ \\ \underline{38} \end{array}$	$\begin{array}{r} 32+ \\ \underline{49} \end{array}$	

Nume \_\_\_\_\_


Adunări multiple cu numere de 2 cifre cu trecere peste ordin

# Cum ajungem acolo?



Adună distanța fiecărui traseu de la casă la plajă.		Adună distanța fiecărui traseu de la casă la munte.	
TRASEUL #1	TRASEUL #2	TRASEUL #1	TRASEUL #2
	_____		_____
	_____		_____
	_____		_____
+	_____	+	_____
_____	_____	_____	_____
KM	KM	KM	KM

Nume \_\_\_\_\_



Adunarea numerelor de 2 cifre cu trecere peste ordin

# Nu uita cheile !

Adună. Apoi urmează indiciile pentru a găsi cheia corectă. Scrie suma în gaura cheii.

**A.**

$$\begin{array}{r} 43+ \\ \underline{\quad} \\ 9 \end{array}$$

$$\begin{array}{r} 87+ \\ \underline{\quad} \\ 6 \end{array}$$

$$\begin{array}{r} 64+ \\ \underline{\quad} \\ 8 \end{array}$$

Găsește cheia cu cea mai mare cifră în locul zecilor.



**B.**

$$\begin{array}{r} 36+ \\ \underline{\quad} \\ 5 \end{array}$$

$$\begin{array}{r} 55+ \\ \underline{\quad} \\ 7 \end{array}$$

$$\begin{array}{r} 29+ \\ \underline{\quad} \\ 8 \end{array}$$

Găsește cheia cu cea mai mare cifră în locul unităților.



**C.**

$$\begin{array}{r} 14+ \\ \underline{\quad} \\ 9 \end{array}$$

$$\begin{array}{r} 43+ \\ \underline{\quad} \\ 7 \end{array}$$

$$\begin{array}{r} 58+ \\ \underline{\quad} \\ 4 \end{array}$$

Găsește cheia care are cifre pare pe locul unităților și al zecilor.



**D.**

$$\begin{array}{r} 53+ \\ \underline{\quad} \\ 7 \end{array}$$

$$\begin{array}{r} 24+ \\ \underline{\quad} \\ 8 \end{array}$$

$$\begin{array}{r} 75+ \\ \underline{\quad} \\ 6 \end{array}$$

Găsește cheia cu 0 pe locul unităților.



**E.**

$$\begin{array}{r} 84+ \\ \underline{\quad} \\ 6 \end{array}$$

$$\begin{array}{r} 36+ \\ \underline{\quad} \\ 8 \end{array}$$

$$\begin{array}{r} 67+ \\ \underline{\quad} \\ 9 \end{array}$$

Găsește cheia cu aceeași cifră pe locul unităților și al zecilor.

