





Nume: _____

Numere din 2 cifre

Scăderea formelor



Din numărul din **pentagon**
scădeți numărul din **trapez**.

Scădeți numărul din **hexagon**
din numărul din **romb**.

Din numărul din **inimă**
scădeți numărul din **pătrat**.

Scădeți numărul din **triunghi**
din numărul din **octogon**.

Scădeți numărul din **stea**
din numărul din **cerc**.

Scădeți numărul din **pentagon**
din numărul din **romb**.